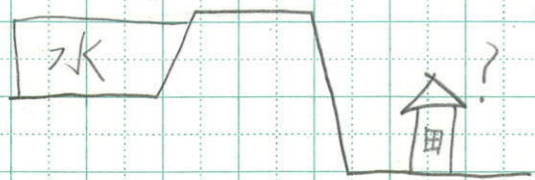


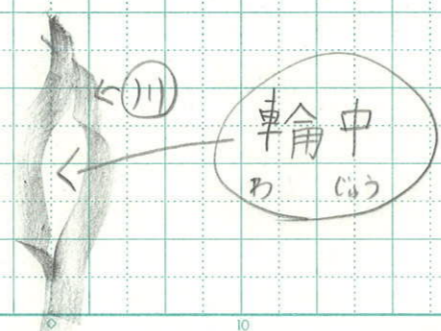

5/20 分 か、たこと



4m の石がきのうえに家がある

なんで、いやをそこよてたい
せつにきむりゆうは、水が4
たか

昔がう人のちえと工夫で豊かな
くらし



5/30 低い土地のくらし

くふうをまとめよう




図1のていぼうのとなりにある
川は揖斐川と長良川です。長良
川のとなりにとても太い川があ
って木曾川がある。この三つの
川に、わじゅうは、はさまれて
います。わじゅうの中に大江川
という川もあります。

